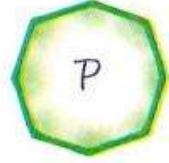


Nombre _____ Curso: _____ Fecha: _____

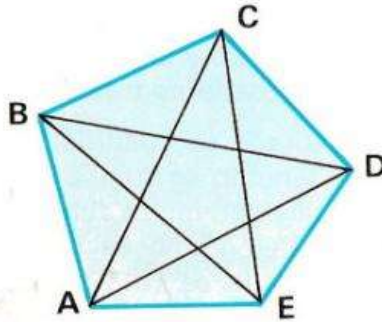
Escribe en la parte derecha lo que falta.

Correspondiente a: Los polígonos, triángulos, cuadriláteros y circunferencia y círculo.



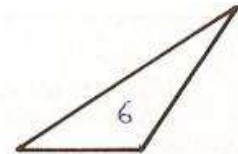

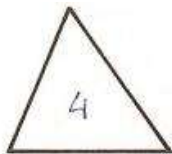
1 a 5. Contesta a estas preguntas de polígonos regulares:

El polígono L es...	
El M es...	
El N es...	
El O es...	
El P es...	



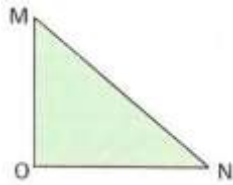
6, 7 y 8. Observando el dibujo contesta a estas preguntas:

El A es...	
El AB es...	
El AC es...	



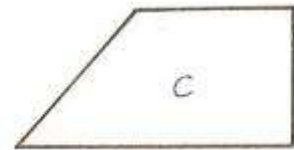

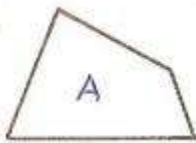
9, 10 y 11. Contesta a estas preguntas:

El triángulo 4 es...	
El 5 es...	
El 6 es...	



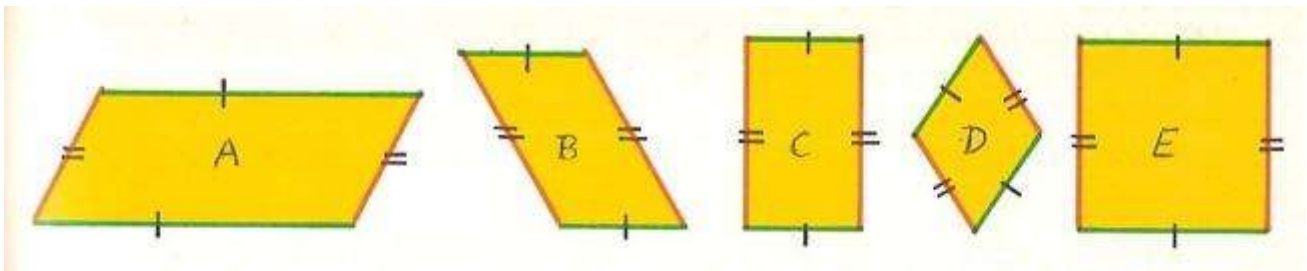
12, 13 y 14. Observando este dibujo, contesta a estas preguntas:

El lado MO es es...	
El MN es...	
El ON es...	



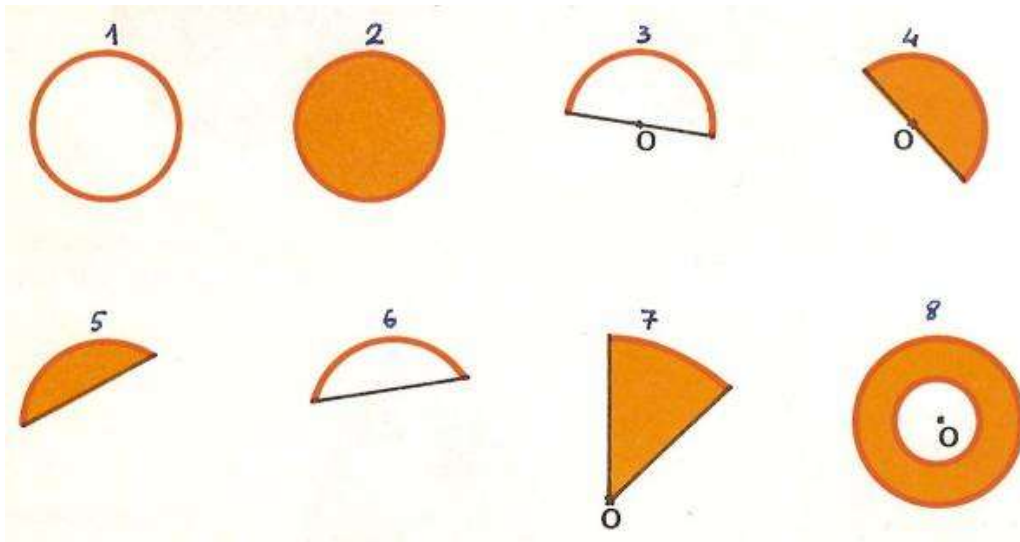
15, 16 y 17. Contesta a estas preguntas:

La figura A es un...	
La figura B es un...	
La figura C es un...	



18 a 22. Observando los dibujos superiores contesta a estas preguntas:

El A es...	
El C es...	
El D es...	
El B es...	
El E es...	



23 a 30. Observando los dibujos superiores contesta a estas preguntas:

La figura 1 es...	
La figura 2 es...	
La figura 3 es...	
La figura 4 es...	
la figura 5 es...	
La figura 6 es...	
La figura 7 es...	
La figura 8 es...	